



5. Masz




. Zrób zakupy.




1 zł




2 zł




3 zł



3 zł




1 zł



8 zł

Ile zapłacisz za




?

..... zł + zł = zł

40

Rozdział drugi – Poznajemy banknoty

Ile razem kosztują





?

... zł

..... zł + zł = zł

Ile razem kosztują








?

... zł

..... zł + zł + zł = zł

6. Odczytaj ceny poszczególnych towarów. Wpisz, jakie to będą monety.

... zł



zł

