

**FOIS 3.11.2020**

Dzień dobry.

**Temat: Miasta Polski**

W dniu dzisiejszym proponuję następujące ćwiczenia:

1. Mapa Polski. Proszę wykonać zadania w kartach pracy:
  - opisać lub pokazać co przedstawia mapa,
  - narysować kontur mapy i napisać po śladzie,

2. Prezentacja multimedialna:

„Co zobaczyć w Krakowie”

<https://www.youtube.com/watch?v=Swd3OsoYRIw>

3. Karty pracy – Kraków (zadanie na wtorek i środę, proszę wkleić do zeszytu).
4. Dodawanie liczb na liczydełkach lub domino (zadanie do wyboru).

Życzę powodzenia i czekam na zdjęcia Waszych prac.

Pozdrawiam p. Ania

1. Popatrz na mapę Polski. Narysuj kontur po śladzie. Co jest na zdjęciach? Napisz nazwy po śladzie.



MORZE BAŁTYCKIE



RZEKA WISŁA



WARSZAWA





# KRAKÓW

Kraków to dawna stolica Polski. W Krakowie znajduje się Wawel – niegdysiejsza siedziba królów Polski. Inne znane zabytki Krakowa to między innymi Sukiennice i kościół Mariacki.

Nazwij zabytki Krakowa przedstawione na kartach 108 i 109. Przeczytaj i wytnij etykiety. Naklej je w odpowiednich miejscach. Pomogą ci w tym liczby.



1



2

4 SUKIENNICE

1

RYNEK GŁÓWNY

7 POMNIK ADAMA MICKIEWICZA

8

BARBAKAN

2 WAWEL


6

KOŚCIÓŁ MARIACKI

3 BRAMA FLORIAŃSKA

5

TEATR IM. JULIUSZA SŁOWACKIEGO







3



4



5



6



7



8





## DODAWANIE I ODEJMOWANIE LICZB

5.05

Wykonaj działania.

$3 + 5 = \dots\dots\dots$

$9 - 7 = \dots\dots\dots$

$4 + 5 = \dots\dots\dots$

$7 - 1 = \dots\dots\dots$

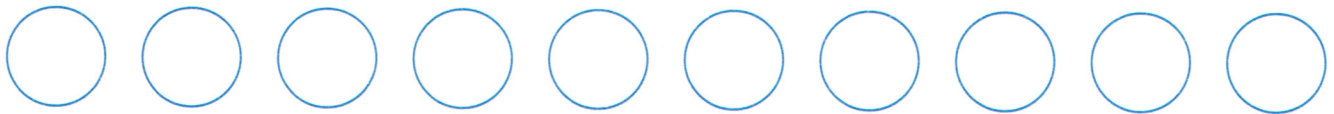
$5 + 4 = \dots\dots\dots$

$9 - 6 = \dots\dots\dots$

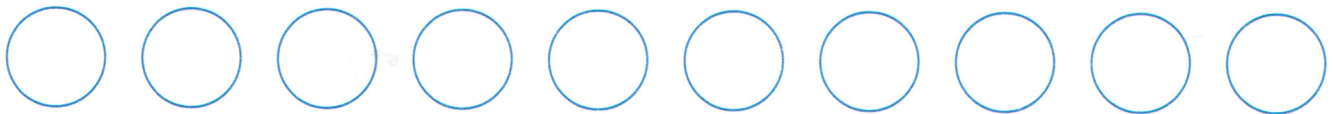
$9 + 0 = \dots\dots\dots$

$4 - 4 = \dots\dots\dots$

W każdym działaniu pokoloruj tyle kółek, ile wynosi wynik działania.



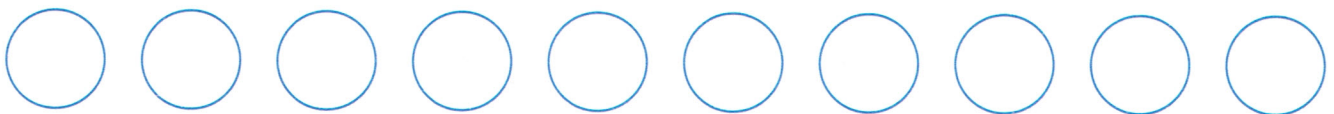
$5 + 4 =$



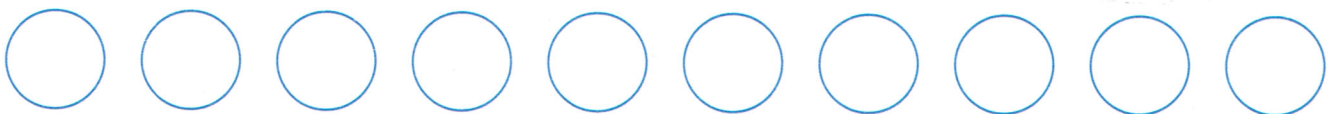
$3 + 5 =$



$8 - 5 =$



$4 - 2 =$



$7 - 3 =$

Połącz klocki domino.

